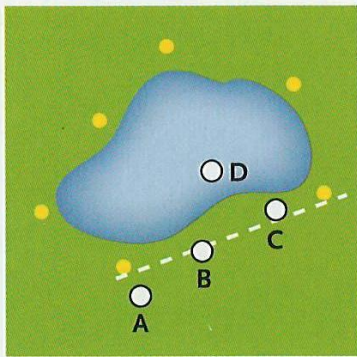
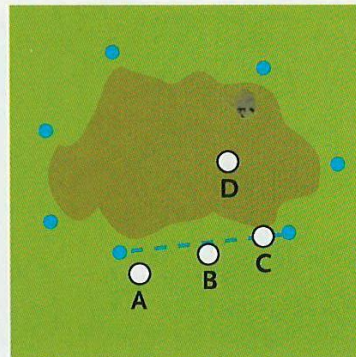


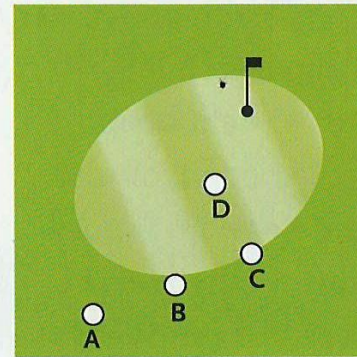
# Wanneer ligt de bal ergens wel of niet in?



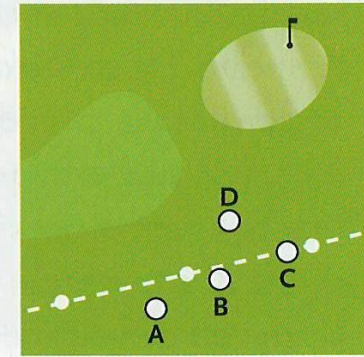
Waterhindernis



GUR



Green



Buiten de baan

Bij de **waterhindernis** ligt bal A duidelijk buiten de hindernis. Bal B **raakt** de grens, de verbindingslijn tussen twee paaltjes. Volgens de regels ligt bal B dan **binnen** de hindernis. Bal C ligt **op** de grens en daarmee ook binnen de hindernis. Bal D ligt duidelijk in de hindernis. Ditzelfde geldt voor de **GUR**.

Hetzelfde geldt ook voor de green. Hier staan geen paaltjes, maar een bal die de

**green raakt** (B, C en D), ligt volgens de regels op de green.

Bij een **bunker** ligt de bal er in als hij op de grens ligt of het **zand raakt**.

Bij **buiten de baan** geldt het volgende:

Bal A ligt buiten de baan. Bal B **raakt de grens** van de baan aan en ligt volgens de regels nog **binnen** de baan. Bal C die **op de grens** ligt, ligt **binnen** de baan. Bal D ligt natuurlijk zeker binnen de baan.

